

Steluța Dan • Carmen Camelia Rădulescu • Zamfir Datcu
Nicolae Lazăr • Dumitru Voicu

geografia europei

6

Steluța DAN
Carmen Camelia RĂDULESCU
Zamfir DATCU
Nicolae LAZĂR
Dumitru VOICU

Geografia Europei

Caiet pentru clasa a VI-a



ISBN 978-606-94482-7-7

Argument.....	4
---------------	---

PARTEA I. Europa – prezentare generală

■ ELEMENTE DE GEOGRAFIE FIZICĂ	6
1. Așezarea geografică	6
2. Relieful	8
3. Clima	10
4. Hidrografia	12
5. Vegetația, fauna și solurile	14
<i>Elemente de geografie fizică – sinteză</i>	16
<i>Test de autoevaluare</i>	17
<i>Elemente de geografie fizică – notițe</i>	18
■ ELEMENTE DE GEOGRAFIE UMANĂ	20
1. Populația	20
2. Așezările umane	22
3. Harta politică	24
4. Resursele naturale	26
5. Economia	28
<i>Elemente de geografie umană – sinteză</i>	30
<i>Test de autoevaluare</i>	31
<i>Elemente de geografie umană – notițe</i>	33

PARTEA a II-a. Europa – regiuni și țări

(caracteristici generale)

■ EUROPA	36
1. Diferențieri geografice regionale. Uniunea Europeană	36
2. Europa Centrală – caracteristici generale	38
3. Germania	40
4. Ungaria	41
5. România	42
6. Republica Moldova	43
■ EUROPA DE SUD (MEDITERANEANĂ)	44
1. Europa de Sud (Mediterraneană) – caracteristici generale	44

2. Italia	46
3. Spania	47
4. Portugalia	48
5. Grecia	49
■ EUROPA DE EST	50
1. Europa de Est – caracteristici generale	50
2. Federația Rusă	52
■ EUROPA DE VEST (ATLANTICĂ)	54
1. Europa de Vest (Atlantică) – caracteristici generale	54
2. Franța	56
3. Regatul Unit al Marii Britanii și al Irlandei de Nord	57
■ EUROPA DE NORD	58
1. Europa de Nord – caracteristici generale	58
2. Suedia	60
3. Norvegia	61
<i>Europa – regiuni și țări – notițe</i>	62
DICȚIONAR DE TERMENI GEOGRAFICI	67



Partea I Europa – prezentare generală

Elemente de geografie fizică

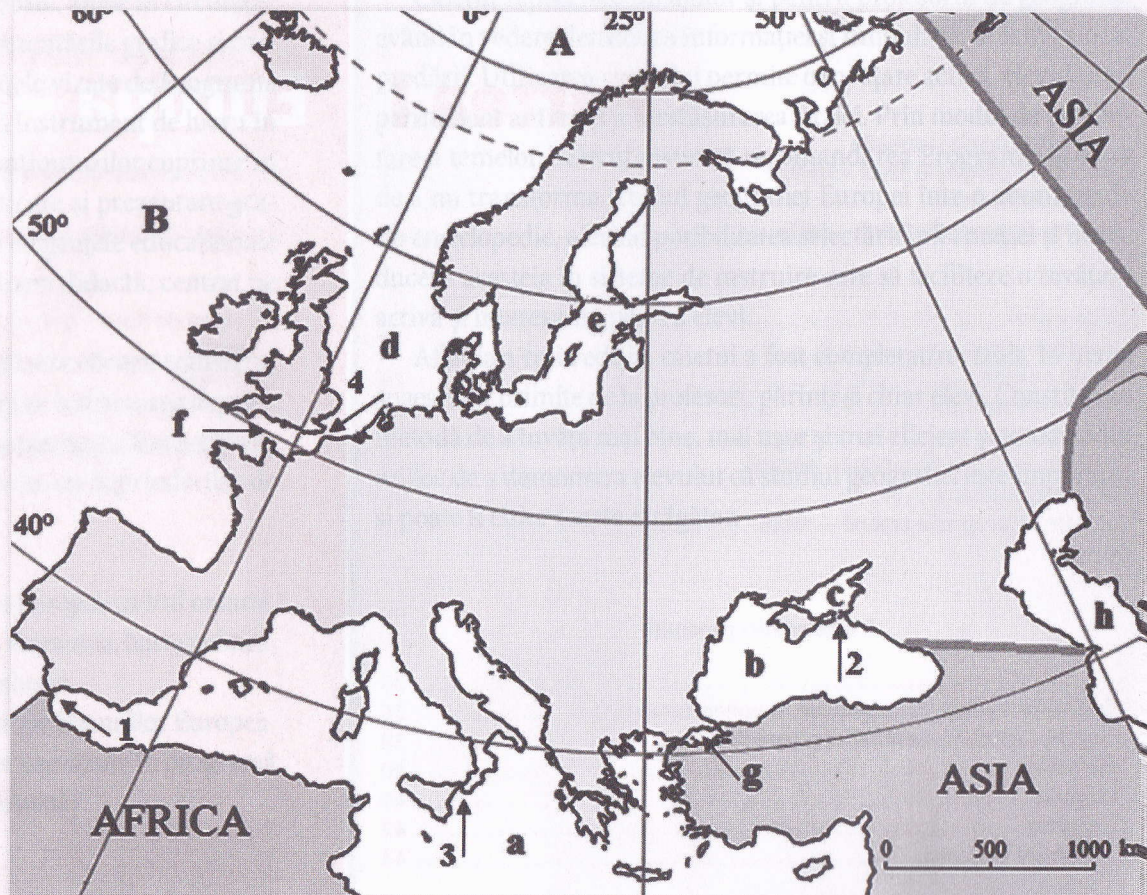
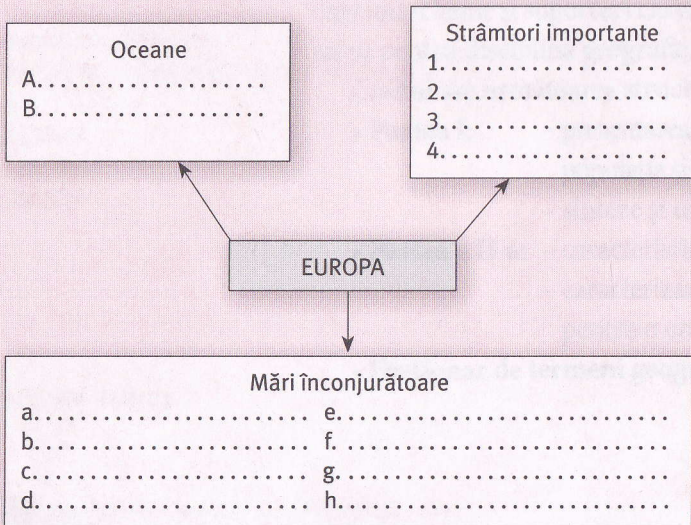


1. Așezarea geografică

A Completați spațiile libere de mai jos cu informațiile corespunzătoare:

Continentul Europa este așezat pe latitudine în emisfera
 Pe longitudine este așezat în ambele emisfere, deoarece este traversat de meridianul de ° longitudine. Partea de nord a continentului este traversată de paralela numită Punctele extreme sunt: la nord, la vest, la sud, la est, la sud-est de Munții, fluviul, Marea, iar în sud-est de Munții

B Analizați harta alăturată și completați casetele din schema de mai jos cu informațiile corespunzătoare:

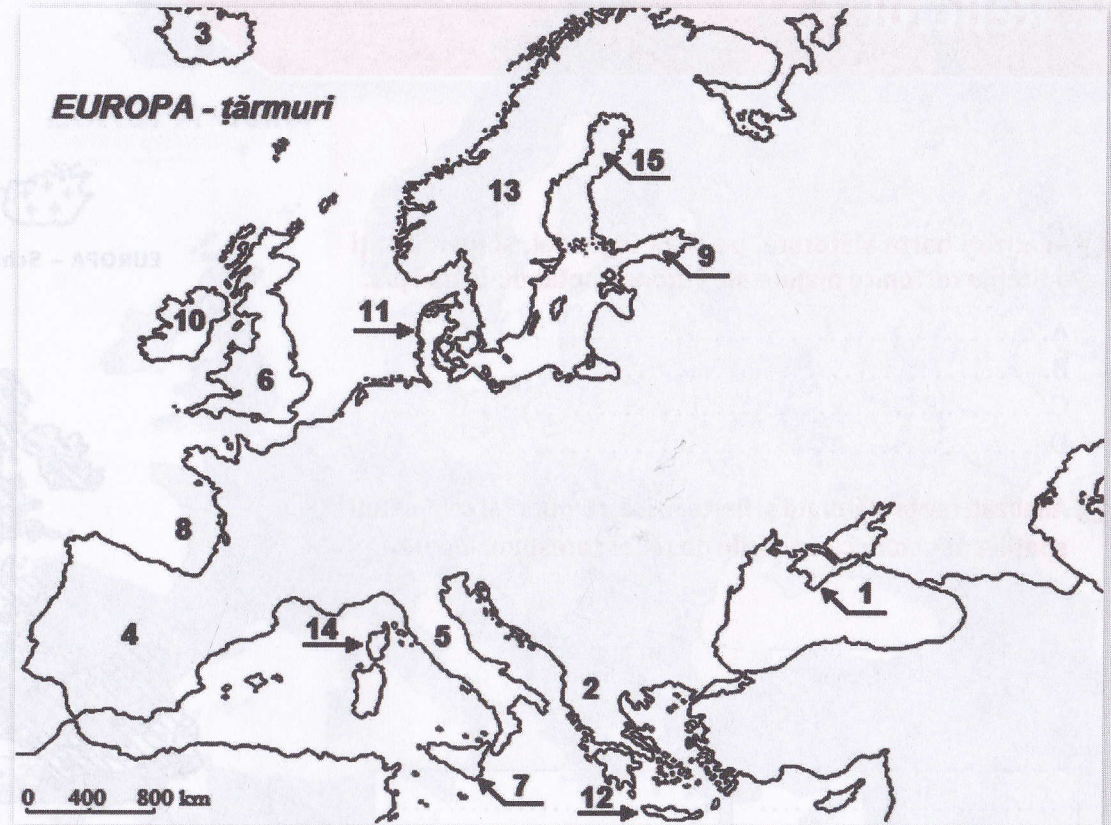


C Urmăriți harta alăturată și încercuiți litera corespunzătoare răspunsului corect.

1. Peninsula Scandinavia este marcată pe hartă cu numărul:
 - a. 2;
 - b. 4;
 - c. 6;
 - d. 13.
2. Insula marcată pe hartă cu numărul 12 se numește:
 - a. Cipru;
 - b. Creta;
 - c. Sardinia;
 - d. Sicilia.
3. Golful Biscaya este marcat pe hartă cu numărul:
 - a. 1;
 - b. 3;
 - c. 8;
 - d. 14.
4. Peninsula Balcanică este marcată pe hartă cu numărul:
 - a. 2;
 - b. 4;
 - c. 11;
 - d. 15.
5. Insula marcată pe hartă cu numărul 10 se numește:
 - a. Corsica;
 - b. Irlanda;
 - c. Islanda;
 - d. Iutlanda.

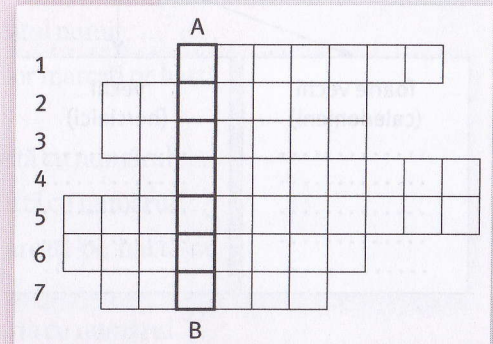
D Urmăriți harta alăturată și completați propozițiile de mai jos cu răspunsurile corecte.

1. Peninsula Crimeea este marcată, pe hartă, cu numărul
2. Peninsula Iberică este marcată pe hartă cu numărul
3. Insula marcată pe hartă cu numărul 7 aparține de statul numit
4. În insula marcată pe hartă cu numărul 6 este situată cea mai mare parte din statul numit
5. Golful Botnic este marcat pe hartă cu numărul
6. Cu numărul 11 este marcată pe hartă peninsula numită
7. Insula marcată, pe hartă, cu numărul 14 aparține de statul numit
8. Capul Roca este situat în vestul peninsulei marcate pe hartă cu numărul
9. Insula marcată pe hartă cu numărul 3 se numește
10. Statele Spania și Portugalia sunt situate în peninsula marcată pe hartă cu numărul




E Completați rebusul alăturat și veți identifica pe verticala A–B numele celei mai mari insule vulcanice de pe glob, care aparține Europei.

1. Insulă din vestul continentului
2. Cel mai mare golf al Europei
3. Mare din nordul Europei
4. Peninsulă situată în sud
5. Peninsulă situată în nord
6. Insulă din Marea Mediterană
7. Peninsulă situată în sud



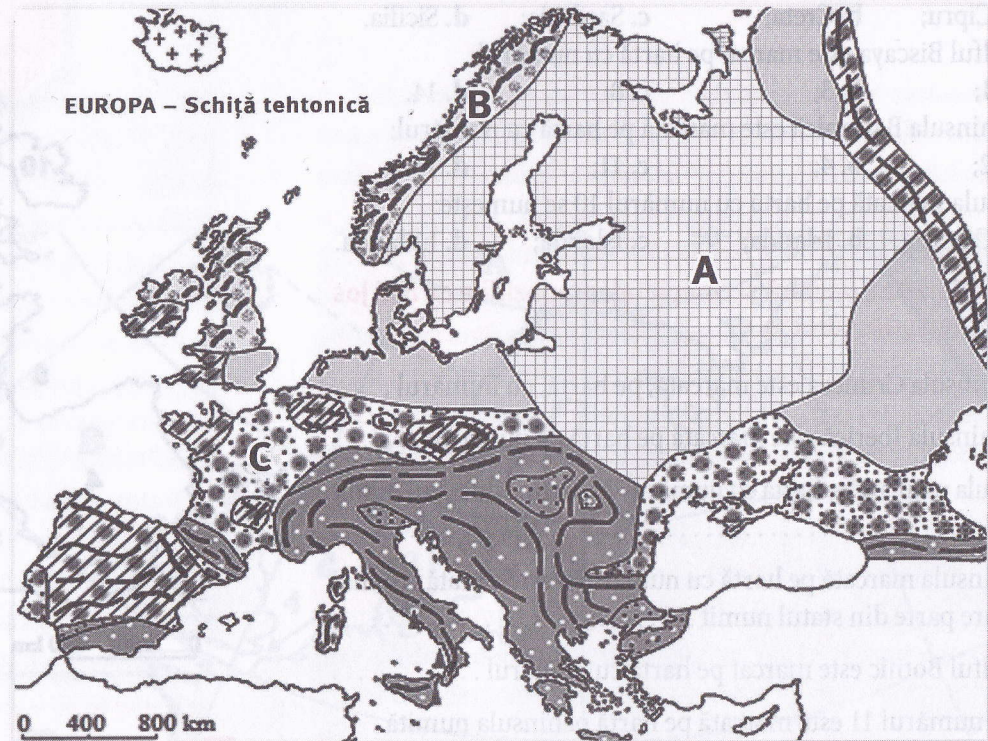
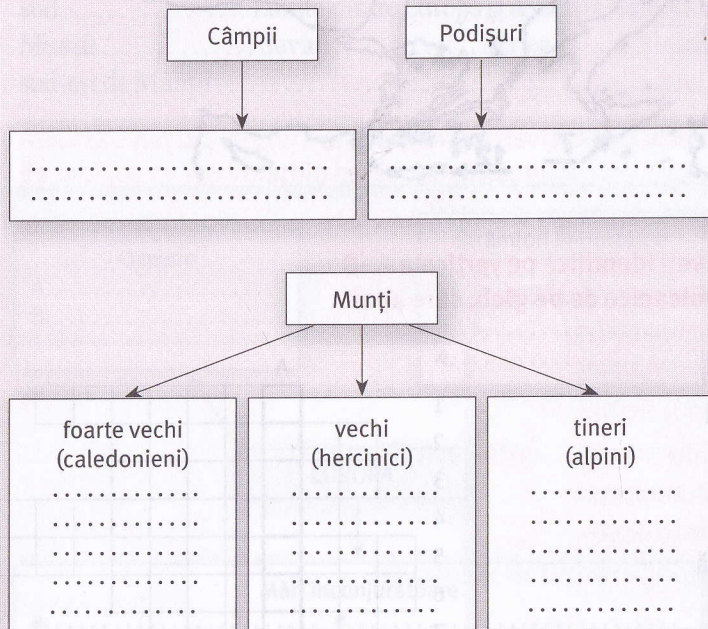
2. Relieful



A Analizați harta alăturată, pe baza legendei, și identificați unitățile tectonice majore ale Europei, notându-le mai jos.

- A.
 B.
 C.
 D.

B Analizați harta alăturată și harta fizică a Europei și completați spațiile punctate cu unitățile de relief corespunzătoare.



LEGENDĂ

Primul nucleu continental cu structuri:

- a) la suprafață
- b) în adâncime

Europa veche (caledonică și hercinică):

- a) masive caledoniene
- b) masive hercinice
- munți, platouri, podișuri
- regiuni depresionare

Europa recentă (alpină):

- a) munți
- b) regiuni depresionare
- vulcani
- catene muntoase
- regiuni vulcanice recente

C Identificați pe harta alăturată unitățile de relief marcate cu numere de la 1 la 20.

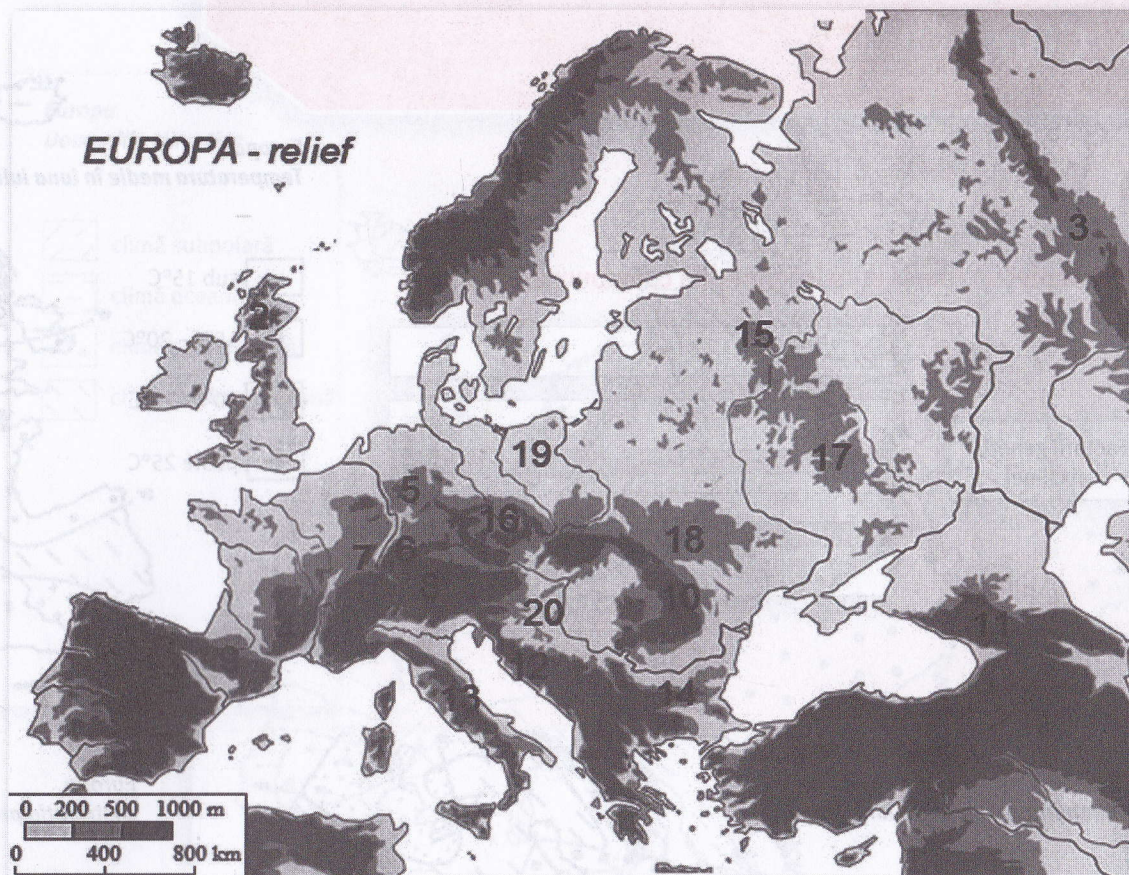
- | | |
|---------|---------|
| 1..... | 11..... |
| 2..... | 12..... |
| 3..... | 13..... |
| 4..... | 14..... |
| 5..... | 15..... |
| 6..... | 16..... |
| 7..... | 18..... |
| 8..... | 19..... |
| 9..... | 20..... |
| 10..... | |

D Urmăriți harta alăturată și încercuiți litera corespunzătoare răspunsului corect.

- Sunt munți hercinici unitățile marcate pe hartă cu numerele:
 - 1 și 2;
 - 3 și 4;
 - 7 și 8;
 - 13 și 14.
- S-au dezvoltat pe structuri foarte vechi unitățile marcate pe hartă cu numerele:
 - 4 și 8;
 - 12 și 13;
 - 14 și 18;
 - 15 și 17.
- Au altitudini de peste 3 000 m unitățile marcate pe hartă cu numerele:
 - 1 și 2;
 - 8 și 9;
 - 10 și 11;
 - 13 și 14.
- Fluviul Dunărea izvorăște din munții marcați pe hartă cu numărul:
 - 4;
 - 5;
 - 6;
 - 7.
- Sunt munți tineri unitățile marcate pe hartă cu numerele:
 - 2 și 3;
 - 5 și 6;
 - 13 și 14;
 - 19 și 20.

E Urmăriți harta alăturată și completați corect propozițiile de mai jos.

- Munții care leagă Peninsula Iberică de continent sunt marcați pe hartă cu numărul
- Între Munții Alpi și Munții Carpați este situată câmpia marcată pe hartă cu numărul
- Cei mai înalți munți din Europa sunt marcați pe hartă cu numărul



- A fost modelată de calota glaciară unitatea de câmpie marcată pe hartă cu numărul
- Munții marcați pe hartă cu numărul 4 sunt situați în statul numit
- Câmpia Padului este situată în partea de nord a munților marcați pe hartă cu numărul
- Vârful Mont Blanc este situat în munții marcați pe hartă cu numărul
- Cel mai lung lanț montan din Europa este marcat pe hartă cu numărul
- În Peninsula Scandinavia sunt situați munții marcați pe hartă cu numărul
- Vulcanul Vezuviu este situat în munții marcați pe hartă cu numărul